




NOMBRE: \_\_\_\_\_ FECHA: \_\_\_\_\_

1. Observa la imagen y luego encierra la alternativa correcta.



- a. Marcelo está mirando hacia el \_\_\_\_\_  
sur      este
- b. Claudia está mirando hacia el \_\_\_\_\_  
norte      oeste
- c. Roberto está mirando hacia el \_\_\_\_\_  
oeste      este
- d. Pamela está mirando hacia el: \_\_\_\_\_  
norte      sur

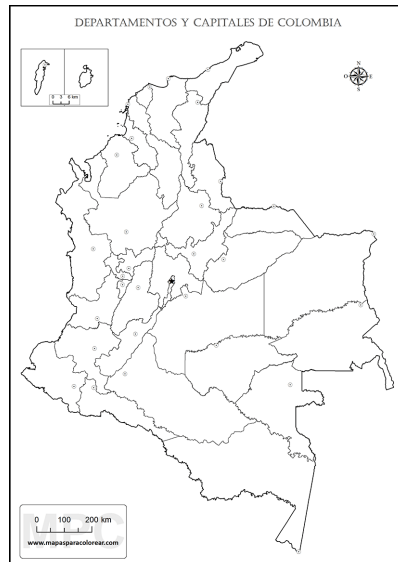
2. Escribe los nombres de los puntos cardinales teniendo en cuenta la imagen.



3. Identifica Y colorea a tu país **Colombia** en el mundo.



3. Identifica y colorea tu departamento **Antioquia** en el mapa de Colombia y señala con un punto el **municipio de Medellín**



4. Observa el mapa de tu municipio y resuelve



A. Identifica la zona en la que vives y coloréala.

B. Menciona lugares importantes de Medellín.

C. Escribe los nombres de los barrios de Medellín de acuerdo a su ubicación:

- AL NORTE: \_\_\_\_\_
- AL SUR: \_\_\_\_\_
- AL ESTE: \_\_\_\_\_
- AL OESTE: \_\_\_\_\_


5. Responde. ¿Qué son los medios de transporte?

---

---

---

6. **Colorea y coloca el nombre correspondiente a cada medio de transporte**



7. Escribe 3 normas importantes que deben tener los medios de transporte en tu municipio.